

## Навигация

### Новые слова:


Роза ветров;

Стороны света: север, юг, восток, запад;

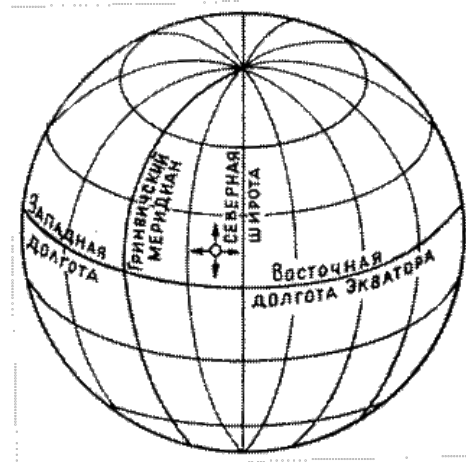
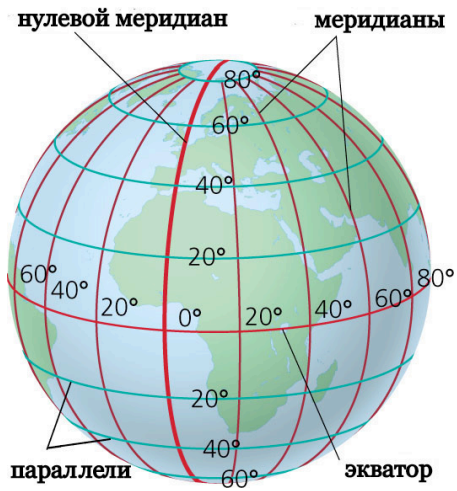
### Задание:

1. надпишите стороны света на розе ветров. Сначала основные направления (север, юг, восток, запад), а потом промежуточные.

2. на компасе принято обозначать градусы. Север – 0 (360) градусов, восток – 90 градусов. Напишите градусы по всем сторонам света.



## Географические координаты



### Новые слова:

Роза ветров;

Стороны света: север, юг, восток, запад;

Параллель, меридиан,  
экватор, полушарие,  
широта, долгота

### Задание:

Найдите на картинке экватор.

Покажите на картинке, где находится западное и восточное полушарие.

Покажите на картинке, где находится северное и южное полушарие.

Где находятся северные широты?

Где находится западная долгота?

**Задание:** найдите на вашей карте следующие координаты и ответьте на вопросы.

1. Какой город находится на 47 северной широты и 123 градуса и 33 минуты западной долготы?
2. Какие координаты у горы Рейнир? Широта \_\_\_\_\_ Долгота \_\_\_\_\_
3. Найдите на карте три аэропорта и обведите их. Напишите их названия и координаты:

Название аэропорта

Широта

Долгота

1. \_\_\_\_\_

\_\_\_\_\_

\_\_\_\_\_

2. \_\_\_\_\_

\_\_\_\_\_

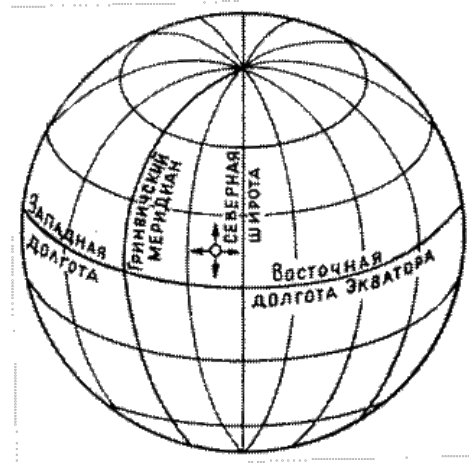
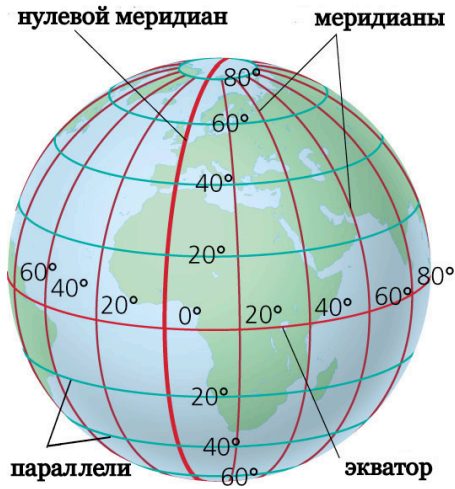
\_\_\_\_\_

3. \_\_\_\_\_

\_\_\_\_\_

\_\_\_\_\_

## Географические координаты



### Вопросы:

1. Через какие две точки проходят ВСЕ меридианы?
2. Как называются два полушария, на которые делит глобус нулевой меридиан?
3. Как называется нулевая параллель?
4. На какие два полушария экватор делит глобус?
5. Сколько минут в градусе?

**Задание:** найдите на вашей карте следующие координаты и ответьте на вопросы.

4. Какой город находится на 47 северной широты и 123 градуса и 33 минуты западной долготы?
5. Какой водоем находится на 47 градусов и 50 минут северной широты и 122 градуса и 25 минут западной долготы?
6. Какие координаты у горы Рейнир? Широта \_\_\_\_\_ Долгота \_\_\_\_\_
7. Найдите на карте три аэропорта и обведите их. Напишите их названия и координаты:

Название аэропорта

Широта

Долгота

1. \_\_\_\_\_

\_\_\_\_\_

\_\_\_\_\_

2. \_\_\_\_\_

\_\_\_\_\_

\_\_\_\_\_

3. \_\_\_\_\_

\_\_\_\_\_

\_\_\_\_\_